

А.ГАЙШТУТ

МАТЕМАТИКА. ПРАКТИЧЕСКИЙ КУРС

В ПОМОЩЬ ПОВТОРЯЮЩИМ МАТЕМАТИКУ ПО СПРАВОЧНИКАМ

ТРИГОНОМЕТРИЯ

Часть 1. Содержание

1. Преобразование выражений с тригонометрическими функциями.
2. Соотношение между функциями одного и того же аргумента.
3. Формулы приведения формулы суммы аргументов
4. Функции удвоенного и половинного аргументов
5. Преобразование произведения тригонометрических функций в сумму и обратное преобразование.
6. Задания для любителей подумать

Преобразование выражений с тригонометрическими функциями

Пример 2.1. Упростить выражение

$$\frac{\sin^2 \alpha - \sin^2 \beta}{\cos^2 \alpha \cos^2 \beta}$$

Пример 2.3. Упростить выражение

$$\left(1 - \frac{1}{\cos^2 \alpha}\right) \left(1 - \frac{1}{\sin^2 \alpha}\right)$$

Упростить выражения:

2.5. $(\sin \alpha + \cos \alpha)^2 + (\sin \alpha - \cos \alpha)^2$.

2.6. $\sin^4 \alpha - \cos^4 \alpha - \sin^2 \alpha + \cos^2 \alpha$.

2.7. $\frac{\operatorname{tg} \alpha}{1 - \operatorname{tg}^2 \alpha} \cdot \frac{\operatorname{ctg}^2 \alpha - 1}{\operatorname{ctg} \alpha}$.

2.8. $\frac{1}{1 + \operatorname{tg}^2 2\alpha} + \frac{1}{1 + \operatorname{ctg}^2 2\alpha}$.

2.9. $\frac{2 \sin^2 \alpha - 1}{1 - 2 \cos^2 \alpha}$.

2.10. $\frac{\cos^2 \alpha - \cos^2 \beta}{\sin^2 \alpha \sin^2 \beta}$.

Справочный отдел

$$\operatorname{tg} \alpha = \frac{\sin \alpha}{\cos \alpha}$$

$$\sec \alpha = \frac{1}{\cos \alpha}$$

$$\operatorname{ctg} \alpha = \frac{\cos \alpha}{\sin \alpha}$$

$$\operatorname{cosec} \alpha = \frac{1}{\sin \alpha}$$

$$\operatorname{tg} \alpha \cdot \operatorname{ctg} \alpha = 1$$

$$1 + \operatorname{tg}^2 \alpha = \sec^2 \alpha$$

$$\sin^2 \alpha + \cos^2 \alpha = 1$$

$$1 + \operatorname{ctg}^2 \alpha = \operatorname{cosec}^2 \alpha$$

Преобразование выражений с тригонометрическими функциями

$$2.11. 1 - \frac{\sin^2 \alpha}{1 + \operatorname{ctg} \alpha} - \frac{\cos^2 \alpha}{1 + \operatorname{tg} \alpha},$$

$$2.12. \frac{1}{\cos^2 \alpha} - \operatorname{tg}^2 \alpha - \sin^2 \alpha.$$

$$2.13. \frac{1}{\sin^2 \alpha} - \operatorname{ctg}^2 \alpha - \cos^2 \alpha.$$

$$2.14. \cos^4 \alpha - \cos^2 \alpha + \sin^4 \alpha + 2 \sin^2 \alpha \cos^2 \alpha.$$

$$2.15. \frac{\sin^2 \alpha - \operatorname{tg}^2 \alpha}{\cos^2 \alpha - \operatorname{ctg}^2 \alpha}.$$

$$2.16. (\operatorname{tg} \alpha + \operatorname{ctg} \alpha)^2 - (\operatorname{tg} \alpha - \operatorname{ctg} \alpha)^2.$$

$$2.17. \frac{\cos \alpha}{1 - \sin \alpha} + \frac{\cos \alpha}{1 + \sin \alpha},$$

$$2.18. \frac{\sin \alpha}{1 - \cos \alpha} + \frac{\sin \alpha}{1 + \cos \alpha}.$$

$$2.19. (\operatorname{ctg} \alpha + 1)^2 + (\operatorname{ctg} \alpha - 1)^2.$$

$$2.20. \sqrt{\frac{1 + \cos \alpha}{1 - \cos \alpha}} - \sqrt{\frac{1 - \cos \alpha}{1 + \cos \alpha}}$$

при $90^\circ < \alpha < 180^\circ$.

Доказательство тождеств

Пример 2.21. Доказать тождество

$$\frac{\operatorname{ctg} 5\alpha - \operatorname{tg} 2\alpha}{\operatorname{ctg} 2\alpha - \operatorname{tg} 5\alpha} = \frac{\operatorname{tg} 2\alpha}{\operatorname{tg} 5\alpha}.$$

Доказать тождества:

$$2.24. (1 + \operatorname{tg}^2 \alpha) \cos^2 \alpha = 1.$$

$$2.25. (1 - \cos^2 \alpha) (1 + \operatorname{tg}^2 \alpha) = \operatorname{tg}^2 \alpha.$$

$$2.26. \frac{1}{\sin \alpha} - \sin \alpha = \cos \alpha \operatorname{ctg} \alpha.$$

$$2.27. \frac{1 - \sin \alpha}{\cos \alpha} = \frac{\cos \alpha}{1 + \sin \alpha}.$$

$$2.28. \frac{5 \cos \alpha - 4}{3 - 5 \sin \alpha} = \frac{3 + 5 \sin \alpha}{4 + 5 \cos \alpha}.$$

$$2.29. \frac{\operatorname{ctg}^2 \alpha - \cos^2 \alpha}{\operatorname{tg}^2 \alpha - \sin^2 \alpha} = \operatorname{ctg}^6 \alpha.$$

$$2.30. \frac{\sin^3 \alpha + \cos^3 \alpha}{1 - \sin \alpha \cos \alpha} = \sin \alpha + \cos \alpha.$$

$$2.31. \frac{\sin \alpha}{1 + \operatorname{ctg} \alpha} + \frac{\cos \alpha}{1 + \operatorname{tg} \alpha} = \frac{1}{\sin \alpha + \cos \alpha}.$$

$$2.32. \frac{\sin^3 \alpha - \cos^3 \alpha}{1 + \sin \alpha \cos \alpha} = \sin \alpha - \cos \alpha.$$

$$2.33. \frac{\sin \alpha - \cos \alpha}{\sin \alpha + \cos \alpha} = \frac{\operatorname{tg} \alpha - 1}{\operatorname{tg} \alpha + 1}.$$

$$2.34. \frac{\cos \alpha + \operatorname{tg} \alpha}{\operatorname{ctg} \alpha + \sec \alpha} = \sin \alpha.$$

$$2.35. \frac{\operatorname{tg} \alpha}{\operatorname{tg} \alpha + \operatorname{ctg} \alpha} = \sin^2 \alpha.$$

$$2.36. \frac{\operatorname{ctg} \alpha + 1}{\operatorname{tg} \alpha + 1} = \operatorname{ctg} \alpha.$$

$$2.37. \frac{\operatorname{tg} 2\alpha + \operatorname{ctg} 3\beta}{\operatorname{ctg} 2\alpha + \operatorname{tg} 3\beta} = \frac{\operatorname{tg} 2\alpha}{\operatorname{tg} 3\beta}.$$

$$2.38. \frac{\sin^2 \alpha}{\sec^2 \alpha - 1} + \frac{\cos^2 \alpha}{\operatorname{cosec}^2 \alpha - 1} = 1.$$

$$2.39. \frac{2 \cos^2 \alpha - 3 \sin^2 \alpha + 3}{2 \sin^2 \alpha - 3 \cos^2 \alpha + 3} = \operatorname{ctg}^2 \alpha.$$

Соотношения между тригонометрическими функциями одного аргумента

Пример 2.54. $\operatorname{ctg} \alpha = 4$, $180^\circ < \alpha < 270^\circ$. Найти $\sin \alpha$, $\cos \alpha$, $\operatorname{tg} \alpha$, $\operatorname{sec} \alpha$, $\operatorname{cosec} \alpha$.

2.56. Зная, что $\sin \alpha = m$, найти $\cos \alpha$, $\operatorname{tg} \alpha$, $\operatorname{ctg} \alpha$,

2.57. Зная, что $\operatorname{sec} \alpha = p$, найти $\sin \alpha$, $\cos \alpha$, $\operatorname{tg} \alpha$,

2.58. По данному значению одной из тригонометрических функций и интервалу, в котором находится α , найдите значения остальных функций:

a) $\cos \alpha = -\frac{12}{13}$, $90^\circ < \alpha < 180^\circ$;

б) $\sin \alpha = -\frac{4}{5}$, $1,5\pi < \alpha < 2\pi$;

в) $\operatorname{ctg} \alpha = -\frac{35}{12}$, $\frac{\pi}{2} < \alpha < \pi$;

г) $\operatorname{tg} \alpha = -3$, $-\frac{\pi}{2} < \alpha < 0$.

2.59. $\frac{a}{b \cos^2 \alpha - c \sin^2 \alpha}$ выразить через $\operatorname{ctg} \alpha$.

2.60. Вычислить $\frac{a \sin \alpha + b \cos \alpha}{c \sin \alpha - d \cos \alpha}$,

если: а) $\operatorname{tg} \alpha = 2$; б) $\operatorname{ctg} \alpha = -3$.

2.61. $3 \sin^2 \alpha - 4 \cos^2 \alpha$ выразить через:

а) $\sin \alpha$; б) $\cos \alpha$.

2.62. $\frac{a \operatorname{ctg} \alpha + b \operatorname{tg} \alpha}{c \operatorname{ctg} \alpha - d \operatorname{tg} \alpha}$ выразить через:

а) $\operatorname{tg} \alpha$; б) $\operatorname{ctg} \alpha$.

2.66. Известно, что $\sin \alpha + \cos \alpha = p$. Найти:

a) $\sin \alpha \cos \alpha$;

в) $\sin^3 \alpha + \cos^3 \alpha$;

б) $\sin \alpha - \cos \alpha$;

г) $\sin^4 \alpha + \cos^4 \alpha$.

2.67. Известно, что $\operatorname{tg} \alpha + \operatorname{ctg} \alpha = p$. Найти:

a) $\operatorname{tg}^2 \alpha + \operatorname{ctg}^2 \alpha$;

в) $\operatorname{tg}^3 \alpha + \operatorname{ctg}^3 \alpha$;

б) $\operatorname{tg} \alpha - \operatorname{ctg} \alpha$;

г) $\operatorname{tg}^3 \alpha - \operatorname{ctg}^3 \alpha$.

Исключить α из системы уравнений:

$$2.68. \begin{cases} \sin \alpha + \cos \alpha = m, \\ \sin \alpha - \cos \alpha = n. \end{cases}$$

$$2.69. \begin{cases} \operatorname{tg} \alpha + \operatorname{ctg} \alpha = m, \\ \operatorname{tg}^2 \alpha + \operatorname{ctg}^2 \alpha = n. \end{cases}$$

$$2.70. \begin{cases} \sin^3 \alpha + \cos^3 \alpha = n, \\ \sin \alpha + \cos \alpha = m. \end{cases}$$

$$2.71. \begin{cases} \sin^4 \alpha - \cos^4 \alpha = n, \\ \sin \alpha + \cos \alpha = m. \end{cases}$$

$$2.72. \begin{cases} \sin^4 \alpha + \cos^4 \alpha = p, \\ \sin \alpha + \cos \alpha = m. \end{cases}$$

$$2.73. \begin{cases} \sin^6 \alpha + \cos^6 \alpha = l, \\ \sin \alpha + \cos \alpha = m. \end{cases}$$

$$2.74. \begin{cases} \operatorname{tg}^3 \alpha + \operatorname{ctg}^3 \alpha = n, \\ \operatorname{tg} \alpha + \operatorname{ctg} \alpha = m. \end{cases}$$

$$2.75. \begin{cases} \operatorname{tg}^3 \alpha - \operatorname{ctg}^3 \alpha = n, \\ \operatorname{tg} \alpha + \operatorname{ctg} \alpha = m. \end{cases}$$

$$2.76. \begin{cases} \operatorname{tg}^4 \alpha + \operatorname{ctg}^4 \alpha = x, \\ \operatorname{tg}^2 \alpha + \operatorname{ctg}^2 \alpha = y. \end{cases}$$

$$2.77. \begin{cases} 5 \operatorname{cosec} \alpha = x, \\ 4 \operatorname{ctg} \alpha = y. \end{cases}$$

$$2.78. \begin{cases} \operatorname{cosec} \alpha - \sin \alpha = x, \\ \sec \alpha - \cos \alpha = y. \end{cases}$$

ВЫЧИСЛИТЬ:

1. $\frac{3 \sin \alpha + 7 \cos \alpha}{2 \sin \alpha - 3 \cos \alpha}$, если $\operatorname{tg} \alpha = 2$.

2. $\frac{5 \sin \alpha + 3 \cos \alpha}{4 \sin \alpha - \cos \alpha}$, если $\operatorname{ctg} \alpha = -3$

3. $\frac{2}{3 \cos^2 \alpha - 4 \sin^2 \alpha}$, если $\operatorname{tg} \alpha = -1$.

4. $\frac{5}{1 - 7 \sin^2 \alpha}$, если $\operatorname{ctg} \alpha = 1$.

Справочный отдел

Функция $y = f(x)$ называется четной, если вместе с каждым значением переменной x из области определения f значение $-x$ также входит в область определения этой функции и при этом выполняется равенство $f(x) = f(-x)$.

Функция $y = f(x)$ называется нечетной, если вместе с каждым значением переменной x из области определения f значение $-x$ также входит в область определения этой функции и при этом выполняется равенство: $f(-x) = -f(x)$.

Из шести тригонометрических функций косинус и секанс — четные, остальные нечетные, то есть

$$\sin(-\alpha) = -\sin \alpha, \quad \cos(-\alpha) = \cos \alpha, \quad \operatorname{tg}(-\alpha) = -\operatorname{tg} \alpha,$$

$$\operatorname{ctg}(-\alpha) = -\operatorname{ctg} \alpha, \quad \operatorname{sec}(-\alpha) = \operatorname{sec} \alpha,$$

$$\operatorname{cosec}(-\alpha) = -\operatorname{cosec} \alpha.$$

Формулы приведения

Пример 2.90 Тригонометрическую функцию $\cos 432^\circ$ привести к наименьшему положительному аргументу.

Решение. $\cos 432^\circ = \cos (360^\circ + 72^\circ) = \cos 72^\circ =$
 $= \cos (90^\circ - 18^\circ) = \sin 18^\circ.$

Пример 2.91. Вычислить

$$\operatorname{tg} 40^\circ \operatorname{tg} 41^\circ \operatorname{tg} 39^\circ \dots \operatorname{tg} 50^\circ.$$

Решение. $\operatorname{tg} 40^\circ \operatorname{tg} 50^\circ =$
 $= \operatorname{tg} 40^\circ \operatorname{tg} (90^\circ - 40^\circ) = \operatorname{tg} 40^\circ \operatorname{ctg} 40^\circ = 1.$

Справочный отдел

Формулами приведения называются формулы, выражающие тригонометрические функции от аргументов $-\alpha$, $\frac{\pi}{2} \pm \alpha$, $\pi \pm \alpha$, $\frac{3\pi}{2} \pm \alpha$, $2\pi \pm \alpha$ через функции от аргумента α , где α — произвольное (допустимое) значение аргумента.

При пользовании формулами приведения можно применять правило:

Если угол приводимой тригонометрической функции имеет вид $\pi \pm \alpha$, $2\pi \pm \alpha$, то название приводимой функции не меняется; если аргумент приводимой функции имеет вид $\frac{\pi}{2} \pm \alpha$, $\frac{3\pi}{2} \pm \alpha$, то название приводимой функции меняется: синус переходит в косинус и наоборот; тангенс переходит в котангенс и наоборот.

Знак в правой части формулы приведения зависит от того, какой знак имеет приводимая функция в данной четверти.

Данную тригонометрическую функцию привести к
наименьшему положительному аргументу $\left(0 < \alpha < \frac{\pi}{4}\right)$.

2.93. $\sin 547^\circ$.

2.99. $\operatorname{tg} 815^\circ$.

2.94. $\operatorname{ctg} 1924^\circ$.

2.100. $\sin (\alpha - 3\pi)$.

2.95. $\operatorname{tg} (-1354^\circ)$.

2.101. $\cos \left(\frac{5\pi}{4} - \alpha\right)$

2.96. $\sin (-934^\circ)$.

2.102. $\operatorname{tg} \left(\frac{3\pi}{4} + \alpha\right)$

2.97. $\operatorname{ctg} (-3984^\circ)$.

2.103. $\sin \left(\frac{5\pi}{3} - \alpha\right)$

2.98. $\cos (-1412^\circ)$.

2.104. $\cos \left(\alpha - \frac{4\pi}{3}\right)$

Упростить выражения:

2.105. $\operatorname{tg} (360^\circ - \alpha) + \operatorname{ctg} (270^\circ - \alpha) +$
 $+ \operatorname{tg} (180^\circ - \alpha) + \operatorname{ctg} (90^\circ - \alpha)$.

2.106. $\sin \left(\frac{\pi}{2} + \alpha\right) + \cos (\pi + \alpha) + \operatorname{tg} \left(\frac{3\pi}{2} - \alpha\right) +$
 $+ \operatorname{ctg} (2\pi - \alpha)$.

ФОРМУЛЫ СУММЫ АРГУМЕНТОВ

Справочный отдел

$$\sin (\alpha \pm \beta) = \sin \alpha \cos \beta \pm \cos \alpha \sin \beta;$$

$$\cos (\alpha \mp \beta) = \cos \alpha \cos \beta \pm \sin \alpha \sin \beta;$$

$$\operatorname{tg} (\alpha \pm \beta) = \frac{\operatorname{tg} \alpha \pm \operatorname{tg} \beta}{1 \mp \operatorname{tg} \alpha \operatorname{tg} \beta};$$

$$\operatorname{ctg} (\alpha \pm \beta) = \frac{\operatorname{ctg} \alpha \operatorname{ctg} \beta \mp 1}{\operatorname{ctg} \beta \pm \operatorname{ctg} \alpha}$$

Вычислить:

$$2.119. \sin 12^\circ \cos 18^\circ + \cos 12^\circ \sin 18^\circ.$$

$$2.120. \sin 65^\circ \cos 55^\circ + \cos 65^\circ \sin 55^\circ.$$

$$2.121. \frac{\cos 10^\circ \cos 20^\circ - \sin 20^\circ \sin 10^\circ}{\sin 11^\circ \cos 19^\circ + \cos 11^\circ \sin 19^\circ}.$$

$$2.122. \frac{\operatorname{ctg} 80^\circ + \operatorname{ctg} 40^\circ}{1 - \operatorname{tg} 10^\circ \operatorname{tg} 50^\circ}.$$

$$2.123. \frac{\operatorname{ctg} 40^\circ \operatorname{ctg} 20^\circ - 1}{\operatorname{tg} 70^\circ + \operatorname{tg} 50^\circ}.$$

Упростить выражения:

$$2.124. \frac{\cos \frac{\pi}{30} \cos \frac{\pi}{15} + \sin \frac{\pi}{30} \sin \frac{\pi}{15}}{\sin \frac{7\pi}{30} \cos \frac{4\pi}{15} + \cos \frac{7\pi}{30} \sin \frac{4\pi}{15}}.$$

$$2.125. \frac{\cos 18^\circ \cos 28^\circ + \cos 108^\circ \sin 208^\circ}{\sin 34^\circ \sin 146^\circ + \sin 236^\circ \sin 304^\circ}.$$

$$2.126. \frac{\sin (\alpha + \beta) - \sin \beta \cos \alpha}{\sin (\alpha - \beta) + \sin \beta \cos \alpha}.$$

$$2.127. \frac{\cos (\alpha + \beta) + \sin \alpha \sin \beta}{\cos (\alpha - \beta) - \sin \alpha \sin \beta}.$$

$$2.128. \frac{\sin (45^\circ + \alpha) - \cos (45^\circ + \alpha)}{\sin (45^\circ + \alpha) + \cos (45^\circ + \alpha)}.$$

$$2.129. \frac{1 + \operatorname{tg} \alpha \operatorname{tg} \beta}{1 - \operatorname{tg} \alpha \operatorname{tg} \beta}$$

$$2.130. \sin 2\alpha \operatorname{ctg} \alpha - \cos 2\alpha.$$

$$2.131. \sin 2\alpha \operatorname{tg} \alpha + \cos 2\alpha.$$

$$2.132. \sin 20^\circ + 2 \sin 40^\circ - \sin 100^\circ.$$

$$2.133. \cos 10^\circ - 2 \cos 50^\circ - \cos 70^\circ.$$

Доказать тождества:

$$2.134. \sin(\alpha + \beta) \sin(\alpha - \beta) = \sin^2 \alpha - \sin^2 \beta.$$

$$2.135. \cos^2 \alpha - \cos(60^\circ + \alpha) \cos(60^\circ - \alpha) = \frac{3}{4}.$$

$$2.136. \frac{1}{2} \sin^2 \alpha + \sin\left(\frac{\pi}{4} + \alpha\right) \sin\left(\frac{\pi}{4} - \alpha\right) = \frac{1}{2} \cos^2 \alpha.$$

$$2.137. \operatorname{ctg} \alpha - \operatorname{ctg} 2\alpha = \operatorname{cosec} 2\alpha.$$

$$2.138. 1 + \operatorname{tg} \alpha \operatorname{tg} 2\alpha = \sec 2\alpha.$$

$$2.139. \frac{\sin(\alpha - \beta) + 2 \cos \alpha \sin \beta}{2 \cos \alpha \cos \beta - \cos(\alpha - \beta)} = \operatorname{tg}(\alpha + \beta).$$

$$2.140. \frac{\sqrt{2} \cos \alpha - 2 \cos(45^\circ + \alpha)}{2 \sin(45^\circ + \alpha) - \sqrt{2} \sin \alpha} = \operatorname{tg} \alpha.$$

$$2.141. \frac{\sin \alpha + 2 \sin(60^\circ - \alpha)}{2 \cos(30^\circ - \alpha) - \sqrt{3} \cos \alpha} = \sqrt{3} \operatorname{ctg} \alpha$$

$$2.142. \frac{1 - \operatorname{tg}\left(\alpha - \frac{\pi}{4}\right)}{1 + \operatorname{tg}\left(\alpha - \frac{\pi}{4}\right)} = \operatorname{ctg} \alpha.$$

Функции удвоенного и половинного аргумента

Пример 2.146. Доказать тождество

$$\frac{\sin 3\alpha}{\sin \alpha} = \frac{\cos 3\alpha}{\cos \alpha} + 2.$$

Решение. Перепишем равенство в виде

$$\frac{\sin 3\alpha}{\sin \alpha} - \frac{\cos 3\alpha}{\cos \alpha} = 2.$$

Докажем его справедливость:

$$\frac{\sin 3\alpha}{\sin \alpha} - \frac{\cos 3\alpha}{\cos \alpha} = \frac{\sin 3\alpha \cos \alpha - \cos 3\alpha \sin \alpha}{\sin \alpha \cos \alpha} = \frac{\sin 2\alpha}{\sin \alpha \cos \alpha} = 2,$$

что и требовалось доказать.

Упростить выражения:

2.147. $(\sin \alpha - \cos \alpha)^2 + \sin 2\alpha$.

2.148. $\frac{1 + \sin 2\alpha}{(\sin \alpha + \cos \alpha)^2}$.

2.149. $\frac{\operatorname{tg} \alpha}{1 + \operatorname{tg} \alpha} + \frac{\operatorname{tg} \alpha}{1 - \operatorname{tg} \alpha}$.

2.150. $\frac{\operatorname{tg} 2\alpha \operatorname{tg} \alpha}{\operatorname{tg} 2\alpha - \operatorname{tg} \alpha}$.

2.151. $2 \sin 40^\circ \sin 50^\circ$.

2.152. $\operatorname{tg} \frac{\alpha}{2} + \operatorname{ctg} \frac{\alpha}{2}$.

2.153. $(\operatorname{tg} 2\alpha + \sec 2\alpha) \operatorname{tg} \left(\frac{\pi}{4} - \alpha \right)$.

2.154. $\frac{1}{1 + \operatorname{ctg} \alpha} - \frac{1}{1 - \operatorname{ctg} \alpha}$.

2.155. $\frac{\operatorname{ctg} \left(\frac{\pi}{4} - \alpha \right)}{\operatorname{ctg}^2 \left(\frac{\pi}{4} - \alpha \right) - 1}$.

Справочный отдел

$$\begin{aligned} \sin 2\alpha &= 2 \sin \alpha \cos \alpha, \\ \cos 2\alpha &= \cos^2 \alpha - \sin^2 \alpha, \end{aligned}$$

$$\operatorname{tg} 2\alpha = \frac{2 \operatorname{tg} \alpha}{1 - \operatorname{tg}^2 \alpha},$$

$$\operatorname{ctg} 2\alpha = \frac{\operatorname{ctg}^2 \alpha - 1}{2 \operatorname{ctg} \alpha},$$

$$\operatorname{tg} \frac{\alpha}{2} = \pm \sqrt{\frac{1 - \cos \alpha}{1 + \cos \alpha}},$$

$$\operatorname{ctg} \frac{\alpha}{2} = \pm \sqrt{\frac{1 + \cos \alpha}{1 - \cos \alpha}},$$

$$\operatorname{tg} \frac{\alpha}{2} = \frac{\sin \alpha}{1 + \cos \alpha} = \frac{1 - \cos \alpha}{\sin \alpha},$$

$$1 + \cos \alpha = 2 \cos^2 \frac{\alpha}{2},$$

$$1 - \cos \alpha = 2 \sin^2 \frac{\alpha}{2},$$

Вычислить без помощи таблиц:

2.156. $2 \sin 15^\circ \cos 15^\circ$.

2.157. $\cos^2 15^\circ - \cos^2 75^\circ$.

2.158. $\cos 10^\circ \cos 20^\circ \cos 40^\circ$.

2.159. $1 - 2 \sin^2 75^\circ$.

2.160. $2 \cos^2 \frac{\pi}{8} - 1$.

Доказать тождество:

2.161. $1 + \sin \alpha = 2 \cos^2 \left(\frac{\pi}{4} - \frac{\alpha}{2} \right)$

2.162. $1 - \sin \alpha = 2 \sin^2 \left(\frac{\pi}{4} - \frac{\alpha}{2} \right)$

2.163. $\frac{1 - \cos 2\alpha}{\sin 2\alpha} = \operatorname{tg} \alpha$.

2.164. $\frac{2 \sin \alpha + \sin 2\alpha}{2 \sin \alpha - \sin 2\alpha} = \operatorname{ctg}^2 \frac{\alpha}{2}$.

2.165. $4 \sin^4 \alpha + \sin^2 2\alpha = 4 \sin^2 \alpha$.

2.166. $\operatorname{tg} 15^\circ + \operatorname{ctg} 15^\circ = 4$.

2.167. $\operatorname{tg} 55^\circ - \operatorname{tg} 35^\circ = 2 \operatorname{tg} 20^\circ$.

2.168. $\operatorname{ctg} \alpha - \sin 2\alpha = \cos 2\alpha \operatorname{ctg} \alpha$.

2.169. $\operatorname{tg} \alpha + 2 \operatorname{ctg} 2\alpha = \operatorname{ctg} \alpha$.

2.170. $\operatorname{ctg} \alpha - \operatorname{ctg} 2\alpha = \operatorname{cosec} 2\alpha$.

2.171. $8 \cos 10^\circ \cos 20^\circ \cos 40^\circ = 1$.

2.172. $16 \cos 20^\circ \cos 40^\circ \cos 60^\circ \cos 80^\circ = 1$.

Преобразование произведения тригонометрических функций в сумму и преобразование суммы тригонометрических функций в произведение

Представить в виде суммы следующие произведения:

2.179. $\cos 25^\circ \cos 10^\circ$.

2.180. $\sin 10^\circ \sin 8^\circ \sin 6^\circ$.

Представить в виде произведения:

2.181. $\sqrt{3} + \operatorname{tg} \alpha$.

2.182. $\sqrt{3} \operatorname{tg} \alpha - 1$.

2.183. $\sin \alpha - \cos \alpha$.

2.184. $1 + 2 \cos \alpha$.

2.185. $1 - 2 \sin \alpha$.

2.186. $\sqrt{3} + 2 \cos \alpha$.

2.187. $\frac{\cos \alpha + \cos \beta}{\cos \alpha - \cos \beta}$.

2.188. $1 + \operatorname{tg} \alpha \operatorname{ctg} \beta$.

2.189. $\frac{\cos 35^\circ - \sin 25^\circ}{\cos 35^\circ + \sin 25^\circ}$.

2.190. $\operatorname{tg} 48^\circ + \operatorname{ctg} 68^\circ$.

2.191. $\sin \alpha + \sin \beta + \sin (\alpha + \beta)$.

2.192. $1 + \sin \alpha - \cos \alpha - \operatorname{ctg} \alpha$.

2.193. $\sin \alpha + \cos 2\alpha + \sin 3\alpha + \cos 4\alpha$.

2.194. $1 + \cos \alpha + \cos 2\alpha + \cos 3\alpha$.

Справочный отдел

$$2 \sin \alpha \cos \beta = \sin (\alpha + \beta) + \sin (\alpha - \beta),$$

$$2 \cos \alpha \cos \beta = \cos (\alpha + \beta) + \cos (\alpha - \beta),$$

$$2 \sin \alpha \sin \beta = \cos (\alpha - \beta) - \cos (\alpha + \beta),$$

$$\sin \alpha + \sin \beta = 2 \sin \frac{\alpha + \beta}{2} \cos \frac{\alpha - \beta}{2},$$

$$\cos \alpha + \cos \beta = 2 \cos \frac{\alpha + \beta}{2} \cos \frac{\alpha - \beta}{2},$$

$$\sin \alpha - \sin \beta = 2 \sin \frac{\alpha - \beta}{2} \cos \frac{\alpha + \beta}{2},$$

$$\cos \alpha - \cos \beta = 2 \sin \frac{\alpha + \beta}{2} \sin \frac{\beta - \alpha}{2},$$

$$\operatorname{tg} \alpha - \operatorname{tg} \beta = \frac{\sin (\alpha - \beta)}{\cos \alpha \cos \beta},$$

$$\operatorname{tg} \alpha + \operatorname{tg} \beta = \frac{\sin (\alpha + \beta)}{\cos \alpha \cos \beta},$$

$$\operatorname{ctg} \alpha - \operatorname{ctg} \beta = \frac{\sin (\beta - \alpha)}{\sin \alpha \sin \beta},$$

$$\operatorname{ctg} \alpha + \operatorname{ctg} \beta = \frac{\sin (\alpha + \beta)}{\sin \alpha \sin \beta}.$$

Пример 2.203. Вывести рекуррентную формулу

$$\cos (n+1) \alpha = 2 \cos \alpha \cos n \alpha - \cos (n-1) \alpha$$

и, используя ее, найти косинусы кратных углов $\cos 2\alpha$, $\cos 3\alpha$, $\cos 4\alpha$.

Решение. $\cos (n+1) \alpha = \cos (n\alpha + \alpha) =$
 $= \cos n\alpha \cos \alpha - \sin n\alpha \sin \alpha =$
 $= (\cos n\alpha \cos \alpha + \cos n\alpha \cos \alpha) -$
 $- (\cos n\alpha \cos \alpha + \sin n\alpha \sin \alpha) =$
 $= 2 \cos \alpha \cos n\alpha - \cos (n-1) \alpha.$

Итак, $\cos (n+1) \alpha = 2 \cos \alpha \cos n\alpha - \cos (n-1) \alpha.$

При $n = 1$ имеем $\cos 2\alpha = 2 \cos^2 \alpha - 1.$

При $n = 2$ имеем $\cos 3\alpha = 2 \cos \alpha \cos 2\alpha - \cos \alpha =$
 $= 2 \cos \alpha (2 \cos^2 \alpha - 1) - \cos \alpha = 4 \cos^3 \alpha - 3 \cos \alpha.$

$$\cos 3\alpha = 4 \cos^3 \alpha - 3 \cos \alpha.$$

При $n = 3$ имеем $\cos 4\alpha = 2 \cos \alpha \cos 3\alpha - \cos 2\alpha =$

$$= 2 \cos \alpha (4 \cos^3 \alpha - 3 \cos \alpha) - (2 \cos^2 \alpha - 1) =$$
$$= 8 \cos^4 \alpha - 8 \cos^2 \alpha + 1.$$

$$\cos 4\alpha = 8 \cos^4 \alpha - 8 \cos^2 \alpha + 1.$$

Пример 2.204. Вывести рекуррентную формулу

$$\sin (n+1) \alpha = 2 \sin \alpha \cos n\alpha + \sin (n-1) \alpha$$

и, используя ее, найти синусы кратных углов $\sin 2\alpha$, $\sin 3\alpha$.

Решение. $\sin (n+1) \alpha = \sin (n\alpha + \alpha) =$
 $= \sin n\alpha \cos \alpha + \cos n\alpha \sin \alpha =$
 $= (\sin n\alpha \cos \alpha - \cos n\alpha \sin \alpha) +$
 $+ (\cos n\alpha \sin \alpha + \cos n\alpha \sin \alpha) =$
 $= \sin (n\alpha - \alpha) + 2 \cos n\alpha \sin \alpha.$

Итак, $\sin (n+1) \alpha = 2 \sin \alpha \cos n\alpha + \sin (n-1) \alpha.$

При $n = 1$ имеем $\sin 2\alpha = 2 \sin \alpha \cos \alpha.$

При $n = 2$ имеем $\sin 3\alpha = 2 \sin \alpha \cos 2\alpha + \sin \alpha =$

$$\begin{aligned}
&= 2 \sin \alpha (1 - 2 \sin^2 \alpha) + \sin \alpha = \\
&= 3 \sin \alpha - 4 \sin^3 \alpha.
\end{aligned}$$

$$\sin 3\alpha = 3 \sin \alpha - 4 \sin^3 \alpha.$$

Пример 2.205. Доказать тождество

$$\frac{8 \cos^4 \alpha - 4 \cos^3 \alpha - 8 \cos^2 \alpha + 3 \cos \alpha + 1}{8 \cos^4 \alpha + 4 \cos^3 \alpha - 8 \cos^2 \alpha - 3 \cos \alpha + 1} = -\operatorname{tg} \frac{7\alpha}{2} \operatorname{tg} \frac{\alpha}{2}.$$

Решение.

$$\begin{aligned}
&\frac{8 \cos^4 \alpha - 4 \cos^3 \alpha - 8 \cos^2 \alpha + 3 \cos \alpha + 1}{8 \cos^4 \alpha + 4 \cos^3 \alpha - 8 \cos^2 \alpha - 3 \cos \alpha + 1} = \\
&= \frac{(8 \cos^4 \alpha - 8 \cos^2 \alpha + 1) - (4 \cos^3 \alpha - 3 \cos \alpha)}{(8 \cos^4 \alpha - 8 \cos^2 \alpha + 1) + (4 \cos^3 \alpha + 3 \cos \alpha)} = \\
&= \frac{\cos 4\alpha - \cos 3\alpha}{\cos 4\alpha + \cos 3\alpha} = \frac{-\sin \frac{7\alpha}{2} \sin \frac{\alpha}{2}}{\cos \frac{7\alpha}{2} \cos \frac{\alpha}{2}} = -\operatorname{tg} \frac{7\alpha}{2} \operatorname{tg} \frac{\alpha}{2},
\end{aligned}$$

что и требовалось доказать.

Пример 2.6. Вычислить без помощи таблиц $\sin 18^\circ$ и $\cos 18^\circ$.

Решение. $\sin 36^\circ = \cos 54^\circ$, $\sin (2 \cdot 18^\circ) = \cos (3 \cdot 18^\circ)$, откуда $2 \sin 18^\circ \cos 18^\circ = 4 \cos^3 18^\circ - 3 \cos 18^\circ$,

$$2 \sin 18^\circ = 4 \cos^2 18^\circ - 3,$$

$$2 \sin 18^\circ = 4 (1 - \sin^2 18^\circ) - 3,$$

$$4 \sin^2 18^\circ + 2 \sin 18^\circ - 1 = 0.$$

Учитывая, что $\sin 18^\circ > 0$, имеем:

$$\sin 18^\circ = \frac{\sqrt{5} - 1}{4}.$$

$$\begin{aligned}
\cos 18^\circ &= \sqrt{1 - \sin^2 18^\circ} = \sqrt{1 - \left(\frac{\sqrt{5} - 1}{4}\right)^2} = \\
&= \sqrt{\frac{16 - 6 + 2\sqrt{5}}{16}} = \frac{\sqrt{10 + 2\sqrt{5}}}{4}.
\end{aligned}$$

О т в е т: $\sin 18^\circ = \frac{\sqrt{5} - 1}{4}$, $\cos 18^\circ = \frac{\sqrt{10 + 2\sqrt{5}}}{4}$.

Пример 2.207. Доказать формулы:

а) $4 \sin \alpha \sin (60^\circ - \alpha) \sin (60^\circ + \alpha) = \sin 3\alpha$;

б) $4 \cos \alpha \cos (60^\circ - \alpha) \cos (60^\circ + \alpha) = \cos 3\alpha$;

в) $\operatorname{tg} \alpha \operatorname{tg} (60^\circ - \alpha) \operatorname{tg} (60^\circ + \alpha) = \operatorname{tg} 3\alpha$;

г) $\operatorname{ctg} \alpha \operatorname{ctg} (60^\circ - \alpha) \operatorname{ctg} (60^\circ + \alpha) = \operatorname{ctg} 3\alpha$.

Решение. а) $4 \sin \alpha \sin (60^\circ - \alpha) \sin (60^\circ + \alpha) =$
 $= 2 \sin \alpha (\cos 2\alpha - \cos 120^\circ) = 2 \sin \alpha \left(\cos 2\alpha + \frac{1}{2} \right) =$
 $= 2 \sin \alpha \cos 2\alpha + \sin \alpha = \sin (\alpha + 2\alpha) + \sin (\alpha - 2\alpha) +$
 $+ \sin \alpha = \sin 3\alpha - \sin \alpha + \sin \alpha = \sin 3\alpha,$

что и требовалось доказать.

в) $\operatorname{tg} 3\alpha = \frac{\sin 3\alpha}{\cos 3\alpha} = \frac{4 \sin \alpha \sin (60^\circ - \alpha) \sin (60^\circ + \alpha)}{4 \cos \alpha \cos (60^\circ - \alpha) \cos (60^\circ + \alpha)} =$
 $= \operatorname{tg} \alpha \operatorname{tg} (60^\circ - \alpha) \operatorname{tg} (60^\circ + \alpha),$

что и требовалось доказать.

Пример 2.208. Вычислить без помощи таблиц

$$\sqrt{3} \operatorname{tg} 10^\circ \operatorname{tg} 50^\circ \operatorname{tg} 70^\circ.$$

Решение. $\sqrt{3} \operatorname{tg} 10^\circ \operatorname{tg} 50^\circ \operatorname{tg} 70^\circ =$
 $= \sqrt{3} \operatorname{tg} 10^\circ \operatorname{tg} (60^\circ - 10^\circ) \operatorname{tg} (60^\circ + 10^\circ) =$
 $= \sqrt{3} \operatorname{tg} 30^\circ = \sqrt{3} \cdot \frac{1}{\sqrt{3}} = 1.$

Ответ: 1.

Пример 2.209. Проверить равенство

$$\sin 84^\circ \sin 24^\circ \sin 48^\circ \sin 12^\circ = \frac{1}{16}.$$

Решение. $\sin 84^\circ \sin 24^\circ \sin 48^\circ \sin 12^\circ =$
 $= \frac{4 \sin 24^\circ \sin (60^\circ - 24^\circ) \sin (60^\circ + 24^\circ)}{4 \sin 36^\circ} \times$
 $\times \frac{4 \sin 12^\circ \sin (60^\circ - 12^\circ) \sin (60^\circ + 12^\circ)}{4 \sin 72^\circ} =$
 $= \frac{\sin 72^\circ}{4 \sin 36^\circ} \cdot \frac{\sin 36^\circ}{4 \sin 72^\circ} = \frac{1}{16},$

что и требовалось доказать.

Пример 2.210. Доказать формулы:

$$а) \sin^3 \alpha = \frac{3 \sin \alpha - \sin 3\alpha}{4};$$

$$б) \cos^3 \alpha = \frac{3 \cos \alpha + \cos 3\alpha}{4}.$$

Решение. Используя функции утроенных аргументов $\sin 3\alpha = 3 \sin \alpha - 4 \sin^3 \alpha$, $\cos 3\alpha = 4 \cos^3 \alpha - 3 \cos \alpha$, получаем искомые формулы.

Упражнения

Доказать тождество:

$$\begin{aligned} 2.211. \quad & 8 \cos^4 \alpha - 4 \cos^3 \alpha - 8 \cos^2 \alpha + 3 \cos \alpha + 1 = \\ & = -2 \sin \frac{7\alpha}{2} \sin \frac{\alpha}{2}. \end{aligned}$$

$$\begin{aligned} 2.212. \quad & 8 \cos^4 \alpha + 4 \cos^3 \alpha + 8 \cos^2 \alpha - 3 \cos \alpha + 1 = \\ & = 2 \cos \frac{7\alpha}{2} \cos \frac{\alpha}{2}. \end{aligned}$$

2.213. Докажите, что $\sin 10^\circ$ является корнем уравнения $8x^3 - 6x + 1 = 0$.

2.214. Доказать справедливость равенства

$$\cos^2 (\alpha + \beta) + \cos^2 (\alpha - \beta) - \cos 2\alpha \cos 2\beta = 1.$$

Проверить равенство:

$$2.215. \quad \operatorname{ctg} 10^\circ \operatorname{ctg} 50^\circ \operatorname{ctg} 70^\circ = \operatorname{ctg} 30^\circ.$$

$$2.216. \quad \sin^2 70^\circ \sin^2 50^\circ \sin^2 10^\circ = \frac{1}{64}.$$

$$2.217. \quad \sin 10^\circ \sin 30^\circ \sin 50^\circ \sin 70^\circ = \frac{1}{16}.$$

$$2.218. \quad \sin 20^\circ \sin 40^\circ \sin 60^\circ \sin 80^\circ = \frac{3}{16}.$$

$$2.219. \quad \frac{0,25 - \cos 20^\circ \cos 40^\circ \cos 60^\circ \cos 80^\circ}{\cos 10^\circ \cos 30^\circ \cos 50^\circ \cos 70^\circ} = 1.$$

$$2.220. \quad \cos 70^\circ + 8 \cos 20^\circ \cos 40^\circ \cos 80^\circ = 2 \cos^2 35^\circ.$$

$$2.221. \quad \cos 50^\circ + 8 \cos 200^\circ \cos 220^\circ \cos 80^\circ = 2 \sin^2 65^\circ.$$

$$2.222. \quad \operatorname{tg} 6^\circ \operatorname{tg} 42^\circ \operatorname{tg} 66^\circ \operatorname{tg} 78^\circ = 1.$$

2.223. Доказать тождество:

$$\operatorname{ctg} (30^\circ - \alpha) \operatorname{ctg} (150^\circ - \alpha) \operatorname{ctg} (270^\circ + \alpha) = \operatorname{tg} 3\alpha.$$

Вычислить:

2.224. $\sin 20^\circ \cos 50^\circ \sin 60^\circ \cos 10^\circ \cos 45^\circ.$

2.225. $\cos 260^\circ \sin 130^\circ \cos 160^\circ.$

Представить в виде произведения:

2.226. $\sin^3 20^\circ + \cos^3 10^\circ.$

2.227. $4 \sin^3 \alpha \cos 3\alpha + 4 \cos^3 \alpha \sin 3\alpha.$

Преобразовать в произведение:

2.237. $1 - 4 \sin^2 \alpha.$

2.238. $\cos^2 \alpha - \cos^2 \beta.$

2.239. $\sin^2 (\alpha + \beta) - \sin^2 (\alpha - \beta).$

2.240. $\sin 4\alpha - 2 \cos^2 2\alpha + 1.$

2.241. $\sin^2 (\alpha + 90^\circ) - 3 \cos^2 (\alpha - 90^\circ).$

2.242. $\sin^2 \left(\beta - \frac{\pi}{2} \right) - \cos^2 \left(\alpha - \frac{3\pi}{2} \right)$

2.243. $3 - 4 \cos^2 \left(\frac{3\pi}{2} - \alpha \right).$

2.244. $1 - 3 \operatorname{tg}^2 \left(\alpha + \frac{3\pi}{2} \right)$

2.245. $\operatorname{tg} \frac{\alpha}{2} + \operatorname{ctg} \frac{\alpha}{2} + 2.$

2.246. $\sec^4 \alpha - \operatorname{cosec}^4 \alpha.$

- 2.247. $\frac{\operatorname{tg}^4 \alpha - \operatorname{tg}^6 \alpha}{\operatorname{ctg}^4 \alpha - \operatorname{ctg}^2 \alpha}$.
- 2.248. $\operatorname{tg}^2 \left(\alpha - \frac{3\pi}{2} \right) - \operatorname{ctg}^2 \left(\alpha + \frac{3\pi}{2} \right)$.
- 2.249. $1 + \cos (2\alpha + 270^\circ) + \sin (2\alpha + 450^\circ)$.
- 2.250. $1 - \cos (2\alpha - 270^\circ) + \sin (2\alpha + 270^\circ)$.
- 2.251. $1 - \cos (2\alpha - \pi) - \cos (4\alpha + \pi) + \cos (6\alpha - 2\pi)$.
- 2.252. $\frac{\sin \alpha - 2 \cos 3\alpha - \sin 5\alpha}{\cos \alpha - 2 \sin 3\alpha - \cos 5\alpha}$.
- 2.253. $\frac{\sin 4\alpha + \sin 5\alpha + \sin 6\alpha}{\cos 4\alpha + \cos 5\alpha + \cos 6\alpha}$.
- 2.254. $\frac{\cos 7\alpha - \cos 8\alpha - \cos 9\alpha + \cos 10\alpha}{\sin 7\alpha - \sin 8\alpha - \sin 9\alpha + \sin 10\alpha}$.
- 2.255. $\frac{\sin 13\alpha + \sin 14\alpha + \sin 15\alpha + \sin 16\alpha}{\cos 13\alpha + \cos 14\alpha + \cos 15\alpha + \cos 16\alpha}$.
- 2.256. $\sin 2\alpha + \sin 4\alpha + \sin 6\alpha$.
- 2.257. $1 + \sin 2\alpha - \cos 2\alpha - \operatorname{tg} 2\alpha$.
- 2.258. $-\cos 5\alpha \cos 4\alpha - \cos 4\alpha \cos 3\alpha +$
 $+ 2 \cos^2 2\alpha \cos \alpha$.
- 2.259. $\sin 10\alpha \sin 8\alpha + \sin 8\alpha \sin 6\alpha - \sin 4\alpha \sin 2\alpha$.
- 2.260. $\frac{1}{\sqrt{3}} \sin 4\alpha + 1 - 2 \cos^2 2\alpha$.
- 2.261. $3 - 4 \cos 4\alpha + \cos 8\alpha - 8 \cos^4 2\alpha$.
- 2.262. $\operatorname{tg}^3 \alpha - \operatorname{tg}^2 \alpha - 3 \operatorname{tg} \alpha + 3$.
- 2.263. $\operatorname{tg}^4 \alpha - 4 \operatorname{tg}^2 \alpha + 3$.
- 2.264. $6 \sin^2 2\alpha - 1 - \cos 4\alpha$.
- 2.265. $2 \cos^2 2\alpha + 3 \cos 4\alpha - 3$.
- 2.266. $\frac{\sin (2\alpha - \beta)}{\cos 4\alpha} + \frac{\sin \beta}{\cos 2\alpha}$.
- 2.267. $3 + 4 \cos 4\alpha + \cos 8\alpha$.
- 2.268. $\sqrt{1 + \sin \frac{\alpha}{2}} - \sqrt{1 - \sin \frac{\alpha}{2}}$, если $0 < \alpha \leq 180^\circ$.
- 2.269. $\cos^2 \alpha + \cos^2 \beta - 2 \cos \alpha \cos \beta \cos (\alpha - \beta)$.

ЗАДАНИЯ ДЛЯ ЛЮБИТЕЛЕЙ ПОДУМАТЬ

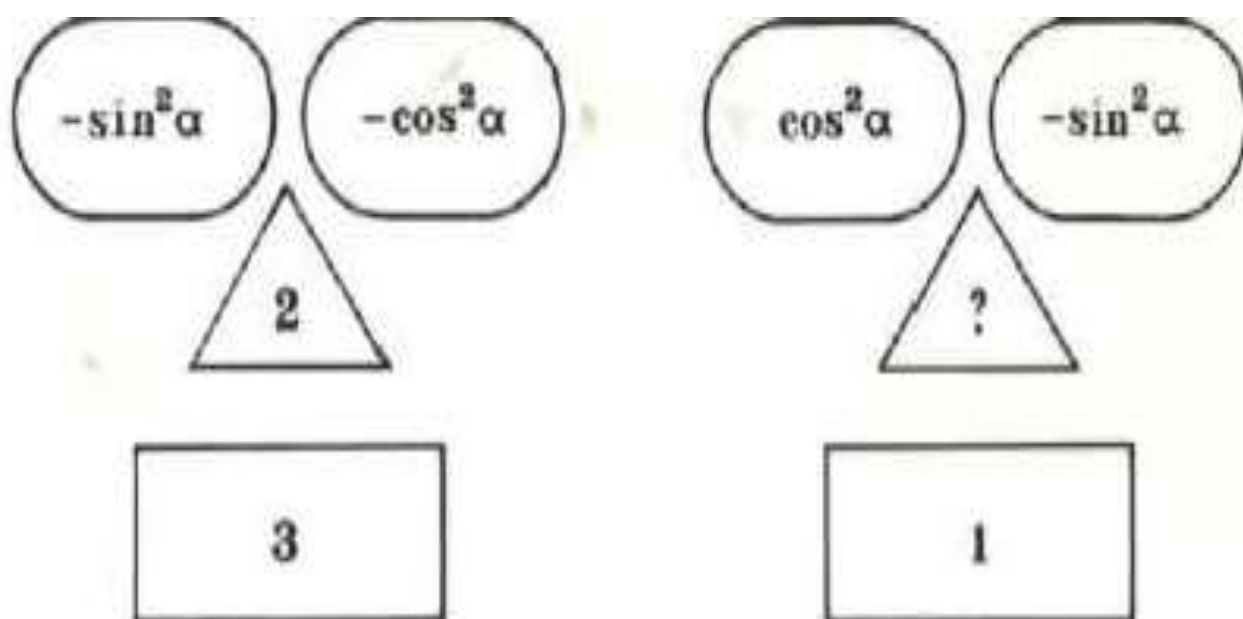
1. Найти неизвестное выражение

$\sin \alpha$	$\cos \alpha$	1
7	24	25
1	1	?
$\frac{1}{\sqrt{a + \sqrt{a^2 - b^2}}}$	$\frac{1}{\sqrt{a - \sqrt{a^2 - b^2}}}$?

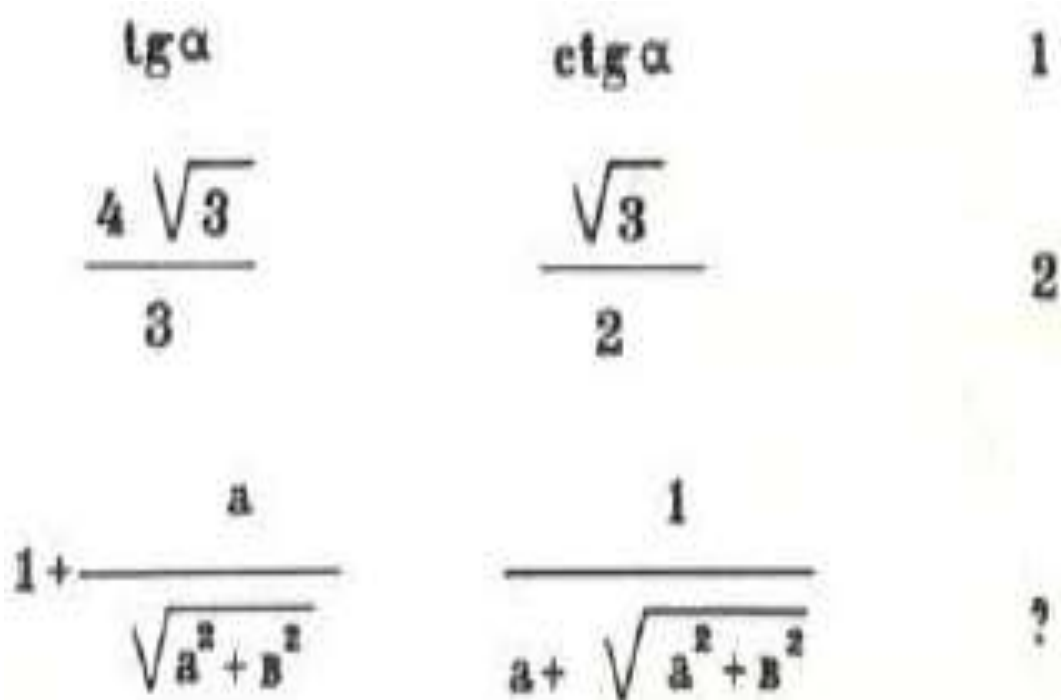
2. Найти неизвестное выражение

$1 + \operatorname{tg}^2 \alpha$	$1 - \sin \alpha$
$\sin^2 \alpha$	$\operatorname{ctg}^2 \alpha$
$1 + \sin \alpha$?

3. Найти неизвестное выражение



4. Найти неизвестное выражение



5. Найти неизвестное выражение

$$1 + \operatorname{tg}^2 \alpha$$

$$1 + \operatorname{ctg}^2 \alpha$$

$$\operatorname{tg}^2 \alpha$$

$$1 + \frac{1}{m}$$

$$1 - \frac{1}{m}$$

$$\frac{m+1}{m-1}$$

$$\sqrt{3+2\sqrt{2}}$$

$$\frac{1}{\sqrt{2}-1}$$

?

6. Найти неизвестное выражение

$$\sin \alpha$$

$$\frac{1}{2}$$

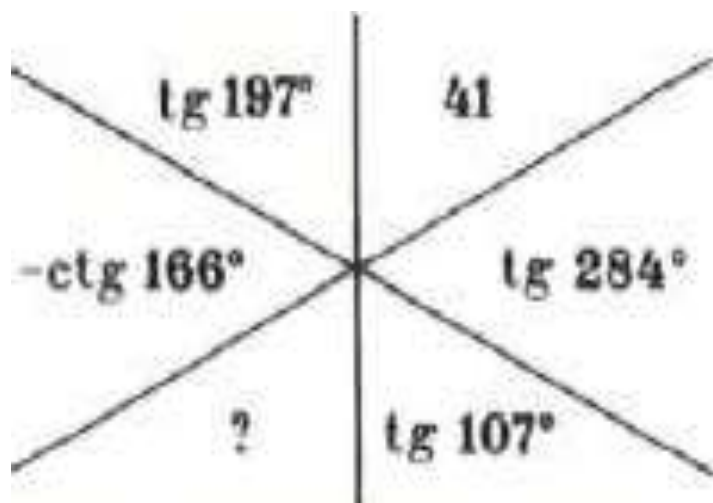
$$\operatorname{tg} \alpha$$

$$\frac{1}{\sqrt{3}}$$

$$\sec \alpha$$

?

7. Найти неизвестное выражение



8. Найти неизвестное выражение

$$\text{tg } 365^\circ$$

$$\text{ctg } 185^\circ$$

$$\text{tg } 200^\circ$$

$$\text{ctg } 380^\circ$$

$$1\frac{2}{3}$$

$$?$$

9. Найти неизвестное выражение

$\sin 193$	$\cos 283$	0
$\sqrt{4+2\sqrt{3}}$	$1-\sqrt{3}$	2
$5-3\cos^2\alpha$	$2-3\sin^2\alpha$?

10. Найти неизвестное выражение

$\operatorname{tg} 212^\circ$	$\operatorname{tg} 598^\circ$	1
$7-\sin^2\alpha$	$\frac{3}{6+\cos^2\alpha}$	3
$\frac{6\sqrt{2}}{\sqrt{3}-1}$	$\frac{1}{\sqrt{6}+\sqrt{2}}$?

11. Найти неизвестное выражение

$\sin\left(\alpha+\frac{\pi}{6}\right)\cos\alpha$	$\frac{1}{2}$	$\cos\left(\alpha+\frac{\pi}{6}\right)\sin\alpha$
$\sqrt{18}+2\sqrt{3}$?	$\sqrt{50}+\sqrt{12}$

12. Найти неизвестное выражение

$2\sqrt{12}$	$7\sqrt{3}$	$\sqrt{27}$
$\cos(\alpha + \frac{\pi}{3})\cos\alpha$?	$\sin(\alpha + \frac{\pi}{3})\sin\alpha$

13. Найти неизвестное выражение

$3,2 \cdot 10^7$	$4 \cdot 10^{-5}$	$1,28 \cdot 10^3$
$\frac{\sin 4\alpha}{1 + \cos 4\alpha}$	$\frac{\cos 2\alpha}{1 + \cos 2\alpha}$?

14. Найти неизвестное выражение

$\sin\alpha$	$\cos\alpha$	$1 + \sin 2\alpha$
$\sqrt{3}$	$\sqrt{12}$	27
$\sqrt{4 + \sqrt{7}}$	$\sqrt{4 - \sqrt{7}}$?